

1. Śmieci groźne dla środowiska to:

- A) resztki jedzenia B) papiery C) baterie D) opakowania aluminiowe

2. O przyrodę dba człowiek, który:

- A) nie wyrzuca jedzenia
 B) nie dba o stan techniczny swojego samochodu
 C) wyrzuca wszystkie śmieci do jednego pojemnika
 D) tłuszcz wylewa do zlewu, aby pozbyć się ich jak najszybciej

3. Wskaż pojazd, który wydziela spaliny.

- A)  B)  C)  D) 

4. Oto kilka zasad przyjaciela przyrody. Zaznacz tę, która pozwala zmniejszyć ilość śmieci.

- A) Wylączaj komputer, jeśli przerywasz pracę na dłużej.
 B) Na krótkich trasach wybieraj jazdę rowerem.
 C) Nie odłamuj żywych gałęzi z drzew.
 D) Zamiast trzech małych butelek wody kup jedną dużą butelkę.

5. Masło robi się:

- A) z jajek B) ze śmietany C) z oleju D) z cytryn

6. Niejadalne dla człowieka są liście:

- A) szpinaku B) kukurydzy C) bazylii D) mięty

7. Które z wymienionych zwierząt ma najwięcej nóg?

- A) pająk B) pszczoła C) mysz D) wrona

8. Ten ślad zostawił:



- A) kot B) wilk C) żółw D) wróbel

9. Rozwiąż zagadkę.

„Płynie do wsi i do miasta,
do kuchenki, do żelazka.
Jeśli płynie to w przewodach
lecz to wcale nie jest woda”.

- A) gaz B) rzeka C) prąd elektryczny D) ropa naftowa


10. Pomnikiem przyrody może być:

- A) jeleń B) ogromny głaz C) piękny kwiat D) chmura

11. Chcąc bardzo dokładnie obejrzeć mrówkę użyjesz:

- A) lusterka B) lupy C) lornetki D) latarki

12. Przyjrzyj się rysunkom i zaznacz zdanie prawdziwe.



- A) Papier robi się ze skał. B) Ze starych gazet można produkować papier toaletowy.
 C) Z papieru toaletowego produkuje się gazety. D) Przeczytaną gazetę można wyrzucić na złom.

13. Zaznacz drzewa rosnące w parku.

- A) jodła, agrest, wierzba
 B) brzoza, sosna, róża
 C) jeżyna, klon, lipa
 D) kasztanowiec, dąb, lipa

14. Zakład, który produkuje prąd elektryczny to:

- A) elektryk
 B) elektrownia
 C) prądki
 D) prądnica

15. Gdyby przedmioty umiały mówić, który przedmiot powiedziałby tak:

„Jestem wytrzymała i długo mogę ci służyć. Będzie mniej śmieci, jeśli zabierzesz mnie ze sobą na zakupy.”

- A) parasol
 B) okulary
 C) telefon komórkowy
 D) torba z tkaniny

16. Roślina na zdjęciu obok nosi nazwę:

- A) jarzębina
 B) leszczyna
 C) klon
 D) wierzba

17. Makulatura to nadające się do ponownego przetworzenia:

- A) przeczytane gazety
 B) potłuczone talerze
 C) zniszczone ubrania
 D) plastikowe butelki

18. Wskaż organizm, który musi być odporny na silne podmuchy wiatru.

- A) wydra
 B) tatarak
 C) stokrotka
 D) ślimak

19. Zaznacz nieprawdziwe zdanie.

- A) Wypalanie trawy może spowodować pożar lasu.
 B) Można hałasować tam, gdzie nie mieszkają ludzie, na przykład w lesie.
 C) Spaliny zatrują powietrze.
 D) Wody potrzebuje każdy żywy organizm.

20. Ten znak oznacza:



- A) rondo na skrzyżowaniu dróg
 B) wiatraki produkujące prąd
 C) przetwarzanie odpadów
 D) przedmiot wykonany z gliny





21. Nielegalnie chwytą dzikie zwierzęta:

- A) drewniak
 B) pasożyt
 C) zbójnik
 D) kłusownik

22. Kret:

- A) zapyla truskawki
 B) zjada mszyce
 C) niszczy glebę
 D) jest wrogiem dżdżownicy

23. Zaznacz organizm, który nie jest pod ochroną.

- A)  B)  C)  D) 

24. Zaznacz przedmiot, który nie jest odpadem organicznym.

- A) obierki ziemniaków
 B) skoszona trawa
 C) torebki papierowe
 D) skorupki jajek

25. Żyje w pobliżu jeziora.

- A) gołąb
 B) kaczka
 C) sikorka
 D) mysz

26. Gdy dni stają się coraz dłuższe to:

- A) niedźwiedź zapada w sen zimowy
 B) psu wyrasta grubsze futro
 C) zakwitają przebiśniegi
 D) wiewiórki robią zapasy